



ШКОЛА «МОРОЗКО»

Всероссийская открытая Олимпиада для младших школьников по математике



Московский педагогический
государственный университет

Заочный тур


2019–2020 учебный год

Ф. И. _____


Город _____, Школа _____, 2 класс _____

Задача 1. Разрежьте фигуры на четыре равные части

Решение:



Ответ:



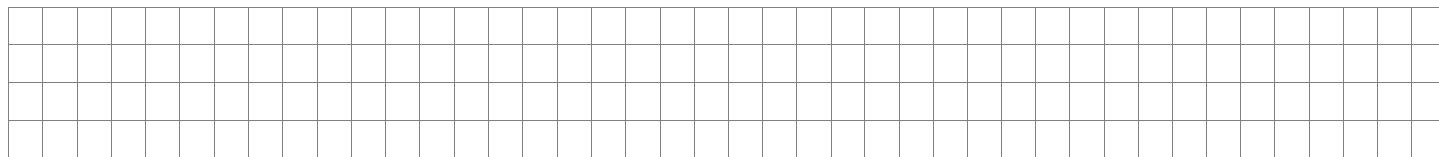
Задача 2. Дети стали в круг. Наблюдательный Толик, стоявший четвертым, заметил, что он стоит как раз напротив своей сестры Маши, которая оказалась четырнадцатой. Сколько всего детей в круге?

Решение:

Ответ: _____

Задача 3. Виталик подбросил игральный кубик 5 раз. Когда он сложил все числа, которые выпадали у него на верхней грани кубика, то получил число 20. Какое наименьшее количество раз у Виталика могло выпасть число 2?


Решение:



Ответ: _____

Задача 4. Один банан, одна груша и два киви вместе стоят 40 руб. А два банана, две груши и одно киви стоят 50 руб. Сколько стоит одно киви?

Решение:



Ответ: _____

